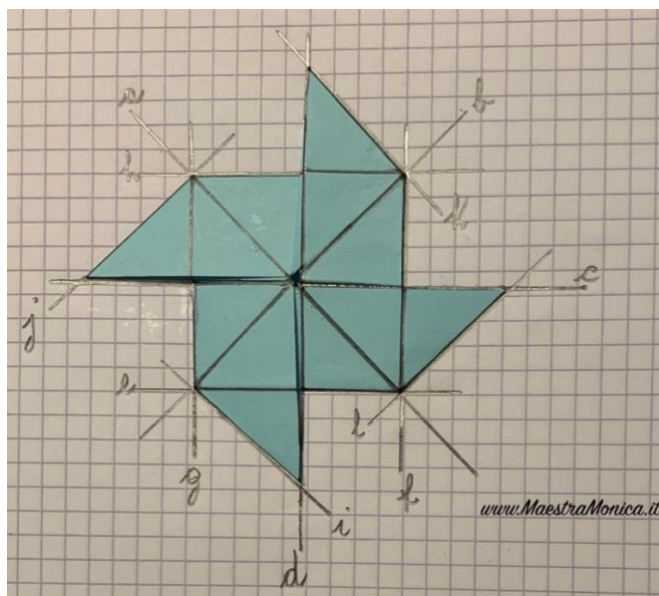





LINEE PARALLELE, INCIDENTI E INCIDENTI PERPENDICOLARI



Osserva le linee tracciate nella girandola e completa la tabella seguendo la legenda


Linee incidenti

Linee incidenti perpendicolari

Linee parallele

	a	b	c	d	e	f	g	h	i	j	k	l
a												
b												
c												
d												
e												
f												
g												
h												
i												
j												
k												
l												