


Ricopia sul quaderno

## DALLE FRAZIONI DECIMALI AI NUMERI DECIMALI

Le frazioni decimali si possono scrivere sotto forma di numeri: **i numeri decimali.**

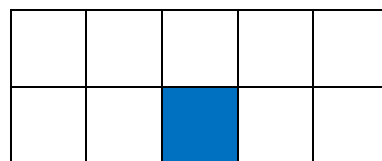
**I NUMERI DECIMALI** sono i numeri scritti **con la virgola.**

**OSSERVA:**



Il rettangolo è un intero  
e vale **1 unità.**

$$1u=1$$

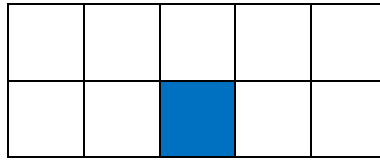


Il rettangolo è diviso in

**10 parti uguali.**

Ogni parte vale

$$\frac{1}{10} = \text{un decimo}$$



$$\frac{1}{10} = \text{un decimo}$$

cioè

**0 unità intere e 1 decimo**

PARTE INTERA			/	PARTE DECIMALE	
centinaia	decine	unità	/	decimi	
h	da	u	/	d	= 0,1
		0	/	1	

$$\frac{1}{10} = 0,1$$

Si legge : **UN DECIMO = ZERO VIRGOLA UNO**

**LA VIRGOLA** SEPARA LA PARTE INTERA DALLA PARTE DECIMALE

I **DECIMI** SI INDICANO CON IL SIMBOLO **d**.