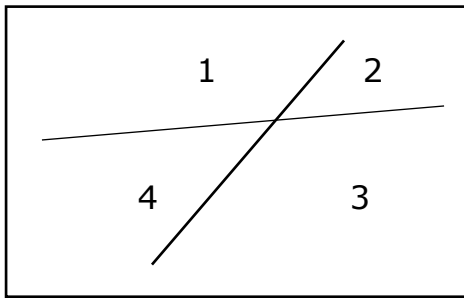
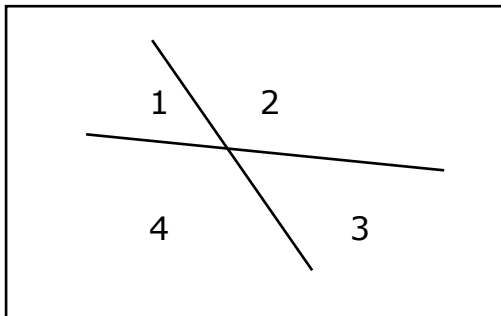


RETTE INCIDENTI, RETTE PERPENDICOLARI E ANGOLI

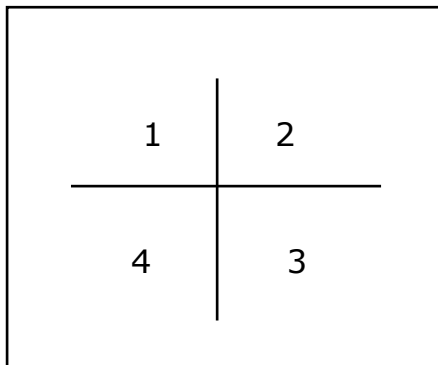
1. OSSERVA GLI ANGOLI FORMATI DALLE RETTE E COMPLETA CON **ACUTO**, **OTTUSO**, **RETTO**, **PERPENDICOLARI**, **INCIDENTI**



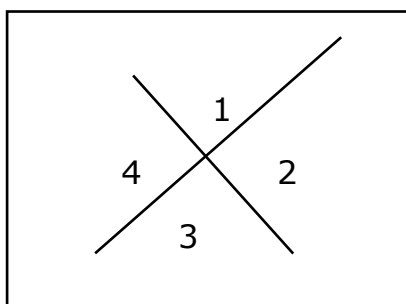
ANGOLO 1 = OTTUSO
 ANGOLO 2 = ACUTO
 ANGOLO 3 =
 ANGOLO 4 =
 RETTE.....



ANGOLO 1 =
 ANGOLO 2 =
 ANGOLO 3 =
 ANGOLO 4 =
 RETTE



ANGOLO 1 =
 ANGOLO 2 =
 ANGOLO 3 =
 ANGOLO 4 =
 RETTE



ANGOLO 1 =
 ANGOLO 2 =
 ANGOLO 3 =
 ANGOLO 4 =
 RETTE

2. COLORA DI BLU GLI ANGOLI ACUTI, DI VERDE QUELLI OTTUSI E DI ROSSO QUELLI RETTI.

3. COMPLETA:

DUE **RETTE INCIDENTI** FORMANO QUATTRO ANGOLI, DUE
 E DUE

DUE **RETTE PERPENDICOLARI** FORMANO QUATTRO ANGOLI.....